

ಪೂರ್ವ ಉಚ್ಚ ಪ್ರಾಥಮಿಕ ಶಿಷ್ಯವೃತ್ತಿ ಪರೀಕ್ಷೆ (5 ನೇ ಇಯತ್ತೆ), ಜುಲೈ 2022

ಆಸನ ಕ್ರಮಾಂಕ-

--	--	--	--	--	--	--	--	--	--

ಸಂಚ-



0	8	0	2
---	---	---	---

ಪೇಪರ್ ಕ್ರ - II

ಸಮಯ : 01:30 ರಿಂದ 03:00

ಒಟ್ಟು ಗುಣಗಳು : 150

ಮಾಧ್ಯಮ - ಕನ್ನಡ

ತೃತೀಯ ಭಾಷೆ ಮತ್ತು ಬುದ್ಧಿಮತ್ತೆ ಚಾಚಣಿ



ಪುಟಗಳು : 32

ಪ್ರಶ್ನೆ ಪತ್ರಿಕೆ ಬಿಡಿಸುವುದಕ್ಕಿಂತ ಮುಂಚೆ ಕೆಳಗಿನ ಸೂಚನೆಗಳು ಎಚ್ಚರಿಕೆಯಿಂದ ಓದಿರಿ.

- (1) ಈ ಪ್ರಶ್ನೆ ಪತ್ರಿಕೆಯಲ್ಲಿ ಎರಡು ವಿಭಾಗಗಳಿವೆ. ವಿಭಾಗ I ರಲ್ಲಿ ತೃತೀಯ ಭಾಷೆಯ 1 ರಿಂದ 25 ಪ್ರಶ್ನೆಗಳಿವೆ ಮತ್ತು ವಿಭಾಗ II ರಲ್ಲಿ ಬುದ್ಧಿಮತ್ತೆ ಚಾಚಣಿ 26 ರಿಂದ 75 ಪ್ರಶ್ನೆಗಳಿವೆ. ಹೀಗೆ 75 ಪ್ರಶ್ನೆಗಳು ಇದ್ದು ಎಲ್ಲ ಪ್ರಶ್ನೆಗಳು ಬಿಡಿಸುವುದು ಅವಶ್ಯಕವಾಗಿದೆ.
- (2) ಪ್ರತಿಯೊಂದು ಪ್ರಶ್ನೆಗೆ 2 ಗುಣಗಳಿವೆ.
- (3) ಪ್ರಶ್ನೆ ಪತ್ರಿಕೆ ಬಿಡಿಸಲು ಒಟ್ಟು 90 ನಿಮಿಷಗಳ ಕಾಲಾವಧಿ ಕೊಡಲಾಗಿದೆ.
- (4) ಉತ್ತರಗಳನ್ನು ನೊಂದಾಯಿಸುವ ಸಲುವಾಗಿ ಸ್ವತಂತ್ರ ಉತ್ತರ ಪತ್ರಿಕೆ ಕೊಡಲಾಗಿದೆ. ಪ್ರತಿಯೊಂದು ಪ್ರಶ್ನೆ ಕ್ರಮಾಂಕದ ಮುಂದೆ ನಾಲ್ಕು ಪರ್ಯಾಯವಿರುವ ವರ್ತುಗಳನ್ನು ಕೊಡಲಾಗಿದೆ. ಅದರಲ್ಲಿ ಯೋಗ್ಯ ಉತ್ತರವಿರುವ ಪರ್ಯಾಯ ಕ್ರಮಾಂಕದ ವರ್ತುಗಳನ್ನು ಉದಾಹರಣೆಯಲ್ಲಿ ತೋರಿಸಿದಂತೆ ನೊಂದಾಯಿಸಿರಿ. ಉದಾ - ಪ್ರಶ್ನೆ ಕ್ರಮಾಂಕ 6ರ ಉತ್ತರ 2 ಆದರೆ ಕೆಳಗೆ ತೋರಿಸಿದಂತೆ ವೃತ್ತವನ್ನು ಪೂರ್ಣವಾಗಿ ತುಂಬಿರಿ.
ಉದಾ. ಪ್ರಶ್ನೆ ಕ್ರ. 6 - ① ● ③ ④
- (5) ಕೆಳಗಿನಂತೆ ನೊಂದಾಯಿಸಿದ ಉತ್ತರಗಳ ಬಗ್ಗೆ ವಿಚಾರ ಮಾಡಲಾಗುವುದಿಲ್ಲ.
① ② ● ④
- (6) ಒಂದು ಪ್ರಶ್ನೆಗೆ ಒಂದಕ್ಕಿಂತ ಹೆಚ್ಚು ವರ್ತುಗಳಲ್ಲಿ ನೊಂದಾಯಿಸಿದ ಉತ್ತರಗಳು, ತಿದ್ದುಪಡಿ ಮಾಡಿ ನೊಂದಾಯಿಸಿದ ಉತ್ತರಗಳು ಗಮನಕ್ಕೆ ತೆಗೆದುಕೊಳ್ಳಲಾಗುವುದಿಲ್ಲ.
- (7) ಒಮ್ಮೆ ನೊಂದಾಯಿಸಿದ ಉತ್ತರ ಬದಲಾಯಿಸಲು ಬರುವುದಿಲ್ಲ.
- (8) ಪರ್ಯಾಯದ ಉತ್ತರ ಕ್ರಮಾಂಕಗಳನ್ನು ಕಪ್ಪು ಅಥವಾ ನೀಲಿ ಬಾಲ್ ಪೆನ್ನಿನಿಂದ ನೊಂದಾಯಿಸಬೇಕು. ಪೆನ್ನಿನಿಂದ ನೊಂದಾಯಿಸಿದ ಉತ್ತರಗಳ ಬಗ್ಗೆ ವಿಚಾರ ಮಾಡಲಾಗುವುದಿಲ್ಲ.
- (9) ಪ್ರಶ್ನೆ ಪತ್ರಿಕೆಯ ಪ್ರತಿಯೊಂದು ಪುಟದ ಕೆಳಗೆ ಮತ್ತು ಕೊನೆಯ ಪುಟದ ಮೇಲೆ ಕಚ್ಚಾ ಕೆಲಸಕ್ಕಾಗಿ ಖಾಲಿ ಸ್ಥಳವನ್ನು ಬಿಡಲಾಗಿದೆ ಅಲ್ಲಿಯೇ ಕಚ್ಚಾ ಕಾರ್ಯ ಮಾಡಬೇಕು.
- (10) ಪರೀಕ್ಷೆಗೆ ಮರ್ಯಾದಿತ ವೇಳೆ ಇರುವುದರಿಂದ ಒಂದು ಪ್ರಶ್ನೆಯ ಉತ್ತರ ನಿಮಗೆ ಬರದಿದ್ದರೆ, ಮುಂದಿನ ಪ್ರಶ್ನೆ ಬಿಡಿಸಿರಿ. ಕೊನೆಗೆ ವೇಳೆ ಇದ್ದರೆ ಉಳಿದಂತೆ ಪ್ರಶ್ನೆಗಳ ಬಗ್ಗೆ ಪುನಃ ಪ್ರಯತ್ನ ಮಾಡಿರಿ.
- (11) ಯಾವುದೇ ಪ್ರಶ್ನೆಯಲ್ಲಿ ತಪ್ಪು/ ದೋಷಗಳಿದ್ದರೆ ಅದರ ಬಗ್ಗೆ ಪರ್ಯಾಯವೇ ಕ್ಷೇತ್ರ ಅಥವಾ ಪರೀಕ್ಷೆ ಕೇಂದ್ರ ಸಂಚಾಲಕರ ಕಡೆ ವಿಚಾರಣೆ ಮಾಡಬಾರದು.
- (12) ಪ್ರಶ್ನೆಯಲ್ಲಿಯೂ ಯಾವುದೇ ದೋಷ/ತಪ್ಪು/ ಆಕ್ಷೇಪಣೆ ಬಗ್ಗೆ ನಿಮ್ಮ ಲಿಖಿತ ನಿವೇದನೆಯನ್ನು ಶಾಲೆಯವರು ಅಥವಾ ಪಾಲಕರು ಗಟಶಿಕ್ಷಣಾಧಿಕಾರಿ ಅಥವಾ ಶಿಕ್ಷಣಾಧಿಕಾರಿಯವರಿಗೆ ಕಳುಹಿಸಬಾರದು. ಆಯಾ ಶಾಲೆಯ ಲಾಗಿನ್ ನಿಂದ ಆನ್ ಲೈನ್ ನೊಂದಾಯಿಸಬೇಕು.
- (13) MSCE ವರ್ಕ್ ಸೈಟ್ ನಲ್ಲಿ ಮಧ್ಯಂತರ ಉತ್ತರ ಸೂಚಿ ಪ್ರಕಟಿಸಿದ 10 ದಿನಗಳಲ್ಲಿ ದೋಷ / ತಪ್ಪು / ಆಕ್ಷೇಪಣೆ / ಸಮಸ್ಯೆಗಳನ್ನು ಆನ್ ಲೈನ್ ನಲ್ಲಿ ನೊಂದಾಯಿಸಬೇಕು.
- (14) ಮುದ್ರಣ ದೋಷ ಅಥವಾ ಅನ್ಯ ಕಾರಣಗಳಿಂದ ಪ್ರಶ್ನೆ ತಪ್ಪು ಎಂದು ಕಂಡು ಬಂದರೆ ತಜ್ಞ ಸಮಿತಿಯ ಅಭಿಪ್ರಾಯಕ್ಕೆ ಅನುಸಾರವಾಗಿ ಅದನ್ನು ರದ್ದು ಮಾಡಲಾಗುವುದು.
- (15) ಮೂಲ ಕನ್ನಡ ಮಾಧ್ಯಮದ ಜೊತೆಗೆ ಇಂಗ್ಲೀಷ್ ಭಾಷೆಯಲ್ಲಿ ಪ್ರಶ್ನೆ ಪತ್ರಿಕೆ ಕೊಡಲಾಗಿದೆ, ಮೂಲ ಕನ್ನಡ ಮಾಧ್ಯಮದಲ್ಲಿಯೂ ಸಂದಿಗ್ಧ ಪ್ರಶ್ನೆಯ ಬಗ್ಗೆ ಇಂಗ್ಲೀಷ್ ಪ್ರಶ್ನೆ ನೋಡಿರಿ.

SECTION - I

ENGLISH

Instructions for Q.01 to Q.03

Read the passage carefully and answer the following questions.

Mani is my favourite cat. Every morning mother gives her some milk. Sometimes she catches a mouse near the garbage pit. She likes climbing trees and watching the birds.

01. What does Mani catch?

- | | |
|-----------|-------------|
| (1) A pit | (2) A mouse |
| (3) Milk | (4) A bird |

02. Find the odd term.

- | | | |
|-----------------|---------------------------|--------------|
| (A) Morning | (B) Climbing | (C) Watching |
| (1) 'B' correct | (2) 'C' correct | |
| (3) 'A' correct | (4) 'A', 'B', 'C' correct | |

03. Find the rhyming word for 'Free'.

- | | |
|----------|----------|
| (1) She | (2) Give |
| (3) Like | (4) Tree |

04. Fill in the blank with the correct alternative.

Malhar caught a big golden fish _____ his net.

- | | |
|----------|----------|
| (1) in | (2) on |
| (3) over | (4) upon |

SPACE FOR ROUGH WORK

05. Choose the correct comparison for as timid as _____.

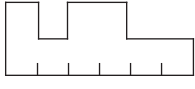
- (1) rabbit (2) elephant
(3) deer (4) vulture

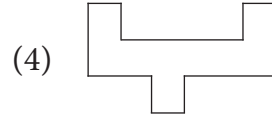
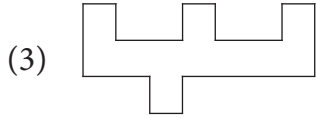
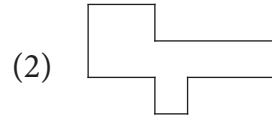
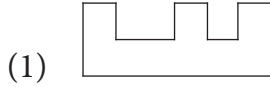
06. Look at the picture and select the correct conversation from the given options.

- (1) A : Excuse me, uncle. Is this yours?
B : Oh, yes!
(2) A : Thank you so much for this gift.
B : You are welcome.
(3) A : What's the time?
B : It's two O'clock.
(4) A : Can you please help me.
B : Sure.



07.

Ladder :  :: English : ?



08. Find the smaller hidden word which indicates 'Head of the unit' from the word - Handkerchief.

- (1) Chick (2) Chief
(3) Hand (4) And


SPACE FOR ROUGH WORK

09. Complete the word register.

Violin, Tabla, _____ , _____.

- (1) Erraser, Sponge (2) Scene, Museum
(3) Tambourine, Cymbals (4) Mixer, Sieve

10. Identify the game and select the correct option.



- (1) Hop-scotch
(2) Hide and seek
(3) Marbles
(4) Skipping-rope

11. Choose the correctly spelt word.

- (1) Compitition
(2) Competition
(3) Compitision
(4) Competision

12. Identify the underlined punctuation mark in the given sentence.

Ah! At last I will have some rice.

- (1) Apostrophe
(2) Comma
(3) Question mark
(4) Exclamation mark

SPACE FOR ROUGH WORK

13. Select the proper option to complete the motto.

_____ is wealth.

- (1) Money
- (2) Health
- (3) Currency
- (4) Growth

14. Fill in the blank with correct option.

This advertisement gives offer for _____ festival.



- (1) Eid
- (2) Pune
- (3) Diwali
- (4) Christmas

15. Select the correct alternative.

_____ work quickly.

- (1) Lets'
- (2) let's
- (3) Let's
- (4) 'Lets

16. Find the odd man out.

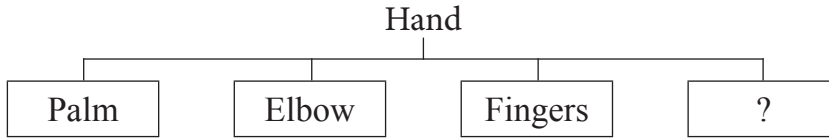
- (1) Shiny star
- (2) Tall tree
- (3) Clever house
- (4) Old man

17. Which of the following is a request? Choose the correct option.

- (1) May I come in?
- (2) I don't know.
- (3) What are you doing?
- (4) Please wait for me.

SPACE FOR ROUGH WORK

18. Look at the chart and find the correct option.



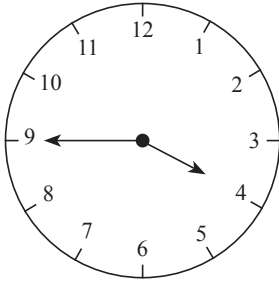
- (1) Beak (2) Tusk
(3) Stomach (4) Wrist

19. Select the correct option.

February is the _____ month of the year.

- (1) second (2) 2
(3) II (4) two

20. This clock shows the time _____.



- (1) quarter to four
(2) quarter past four
(3) quarter to three
(4) quarter past three

21. What will you write in the following timeline?

Present	Past	Future
↓	↓	↓
Find	?	Will find

- (1) Will find (2) Found
(3) Finds (4) Was finding

SPACE FOR ROUGH WORK

22. At the time of examination, what will you say to your friend? Choose the proper greeting.
- (1) All the best. (2) All in one.
(3) All is set. (4) All sit down.
23. Select the correct option.
Sunday comes after _____.
- (1) Monday (2) Thursday
(3) Saturday (4) Tuesday
24. Choose the correct alternative for the given sentence.
gaurav was the captain of 'a' division's team.
- (1) Capital 'G' for gaurav
(2) Capital 'A' for 'a' division
(3) Capital 'C' for captain
(4) Capital 'G' for gaurav and capital 'A' for 'a' division.
25. Count the number of question marks in the following conversation.
A : Hello, Ira speaking. Will you come to play with me?
B : Which game?
A : Off course! Basketball.
B : When?
A : At 5 p.m.
- (1) 2 (2) 4
(3) 0 (4) 3

SPACE FOR ROUGH WORK

SECTION - II

INTELLIGENCE TEST


26. How many two letter words are more or less than the four letter words in the given sentence?
 "Raju helped Ram while he was climbing Shivneri Fort."
 (1) More by 1 (2) Less by 1 (3) More by 2 (4) Less by 2
27. In the given alphabet series which letters have occurred same number of times?
 K P G G P K G H T P D K G P T D P
 (1) P G (2) K T (3) T D (4) D P
28. In the given number series how many times does '3' occur before '5' but '4' does not occur after '5'?
8 3 5 2 4 5 3 5 3 4 6 5 4 3 5 3 5 6 4 3 5 3 5 4 3 5 7
 (1) 7 times (2) 8 times (3) 6 times (4) 9 times

Q.29 to Q.33 Direction :

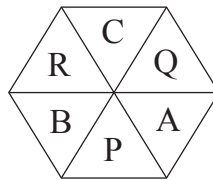
Select the odd term

29. (1) to see - to look (2) dirty - dusty
 (3) hand - fore arm (4) poor - weak

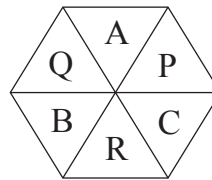
30.



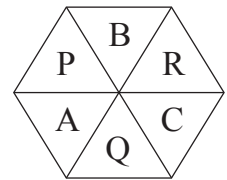
(1)



(2)



(3)



(4)

SPACE FOR ROUGH WORK

ವಿಭಾಗ - II


ಬುದ್ಧಿಮತ್ತೆ ಪರೀಕ್ಷೆ

26. 'ಶಿವನೇರಿ ಕೋಟೆ ಏರುವಾಗ ದಣಿದಂತ ರಾಜುಗೆ ರಾಮನು ಆಧಾರ ಕೊಟ್ಟು.' ಈ ವಾಕ್ಯದಲ್ಲಿ ನಾಲ್ಕು ಅಕ್ಷರಗಳಿರುವ ಶಬ್ದಕ್ಕಿಂತ ಎರಡು ಅಕ್ಷರಗಳಿರುವ ಶಬ್ದಗಳು ಎಷ್ಟು ಕಡಿಮೆ ಅಥವಾ ಹೆಚ್ಚು ಬಂದಿವೆ?
 (1) 1 ಸಲ ಹೆಚ್ಚು (2) 1 ಸಲ ಕಡಿಮೆ (3) 2 ಸಲ ಹೆಚ್ಚು (4) 2 ಸಲ ಕಡಿಮೆ
27. ಖ ಪ ಗ ಗ ಪ ಖ ಗ ಘ ಟ ಪ ಡ ಖ ಗ ಪ ಟ ಡ ಪ
 ಈ ಅಕ್ಷರಮಾಲಿಕೆಯಲ್ಲಿ ಯಾವ ಅಕ್ಷರಗಳು ಸಮಾನ ಸಲ ಬಂದಿವೆ?
 (1) ಪ, ಗ (2) ಖ, ಟ (3) ಟ, ಡ (4) ಡ, ಪ
28. ಕೆಳಗಿನ ಸಂಖ್ಯಾ ಮಾಲಿಕೆಯಲ್ಲಿ '5'ಕ್ಕಿಂತ ಮುಂಚೆ '3' ಇದೆ, ಆದರೆ '5'ರ ನಂತರ '4' ಇಲ್ಲ. ಹೀಗೆ ಎಷ್ಟು ಸಲ ಬಂದಿದೆ?
 (8 3 5 2 4 5 3 5 3 4 6 5 4 3 5 3 5 6 4 3 5 3 5 4 3 5 7)
 (1) 7 ಸಲ (2) 8 ಸಲ (3) 6 ಸಲ (4) 9 ಸಲ

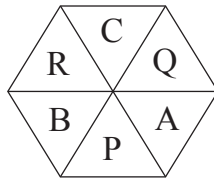
ಸೂಚನೆ: ಪ್ರಶ್ನೆ 29 ರಿಂದ 33 ರ ಸಲುವಾಗಿ ಗುಂಪಿಗೆ ಸರಿಹೊಂದದ ಪದದ ಪರ್ಯಾಯ ಗುರುತಿಸಿರಿ.

29. (1) ಕಣ್ಣು - ನಯನ (2) ಸೂರ್ಯ - ಭಾಸ್ಕರ
 (3) ಹಸ್ತ - ಕರ (4) ಬಡವ - ದಿನ


30.



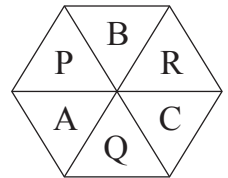
(1)



(2)






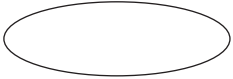
(3)



(4)

SPACE FOR ROUGH WORK

A	B	C	D	E	F	G	H	I	J	K	L	M	N	O	P	Q	R	S	T	U	V	W	X	Y
---	---	---	---	---	---	---	---	---	---	---	---	---	---	---	---	---	---	---	---	---	---	---	---	---

31.  (1)  (2)  (3)  (4)

32. (1) 4 (2) 17 (3) 7 (4) 12

33. (1) 111 (2) 482 (3) 231 (4) 362

Q.34 and Q.35 Direction :

Consider the pattern in the given number series and select the correct option to replace the question mark.

34. 53, 61, 68, 82, ?, 103
 (1) 92 (2) 91 (3) 89 (4) 95

35. 2, 4, 7, 12, 19, 30, ?, 60
 (1) 47 (2) 43 (3) 49 (4) 45

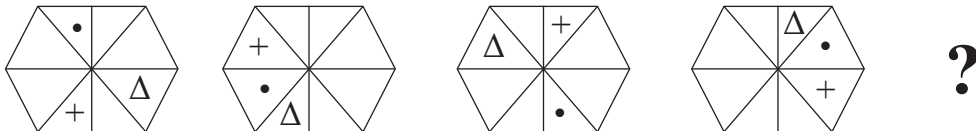
36. In the given series of symbols select the correct group from the options to replace the question mark.

$< + \times -$, $+ \times - <$, $\times - < +$, $- < + \times$, ?

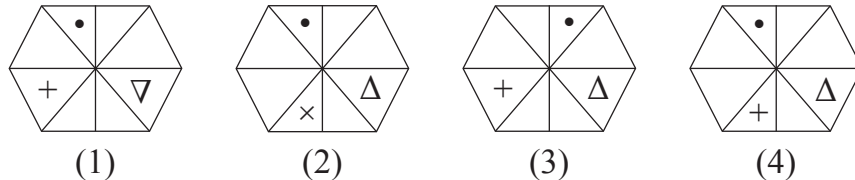
- (1) $< \times + -$ (2) $\times - < +$ (3) $< + \times -$ (4) $> + \times -$

37. Select the correct figure from the options to replace the question mark.

Question Figures :



Answer Figures :



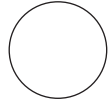
SPACE FOR ROUGH WORK

A	B	C	D	E	F	G	H	I	J	K	L	M	N	O	P	Q	R	S	T	U	V	W	X	Y
---	---	---	---	---	---	---	---	---	---	---	---	---	---	---	---	---	---	---	---	---	---	---	---	---

31.



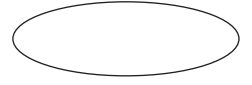
(1)



(2)



(3)



(4)

32.

(1) 4

(2) 17

(3) 7

(4) 12

33.

(1) 111

(2) 482

(3) 231

(4) 362

ಸೂಚನೆ: ಪ್ರಶ್ನೆ 34 ಹಾಗೂ 35 ರ ಸಲುವಾಗಿ

ಸಂಖ್ಯಾಮಾಲಿಕೆಯಲ್ಲಿ ಸಂಖ್ಯಾ ಮಂಡನೆ ಸೂತ್ರವನ್ನು ಲಕ್ಷ್ಯದಲ್ಲಿಟ್ಟು ಕೊಂಡು ಪ್ರಶ್ನೆ ಚಿಹ್ನೆಯ ಸ್ಥಾನದಲ್ಲಿ ಬರುವ ಸಂಖ್ಯೆಯನ್ನು ಪರ್ಯಾಯದಿಂದ ಆಯ್ಕೆಮಾಡಿರಿ.

34.

53, 61, 68, 82, ?, 103

(1) 92

(2) 91

(3) 89

(4) 95

35.

2, 4, 7, 12, 19, 30, ?, 60

(1) 47

(2) 43

(3) 49

(4) 45

36.

ಕೆಳಗಿನ ಚಿಹ್ನೆಗಳ ಮಾಲಿಕೆಯಲ್ಲಿ ಪ್ರಶ್ನೆಚಿಹ್ನೆಯ ಸ್ಥಾನದಲ್ಲಿ ಬರುವ ಚಿಹ್ನೆಗಳ ಗುಂಪನ್ನು ಪರ್ಯಾಯದಿಂದ ಆಯ್ಕೆ ಮಾಡಿರಿ.

$< + \times -$, $+ \times - <$, $\times - < +$, $- < + \times$, ?

(1) $< \times + -$

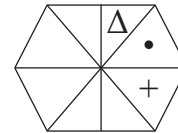
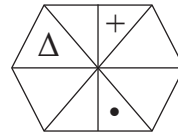
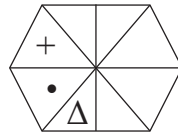
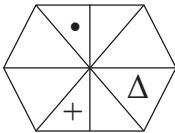
(2) $\times - < +$

(3) $< + \times -$

(4) $> + \times -$

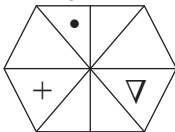
37.

ಪ್ರಶ್ನಾರ್ಥಕ ಚಿಹ್ನೆಯ ಸ್ಥಾನದಲ್ಲಿ ಕ್ರಮವಾಗಿ ಬರುವ ಆಕೃತಿಯನ್ನು ಪರ್ಯಾಯದಿಂದ ಆಯ್ಕೆ ಮಾಡಿರಿ. ಪ್ರಶ್ನಾಕೃತಿಗಳು

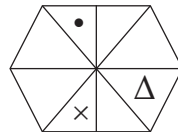


?

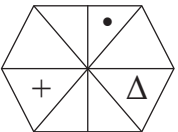
ಉತ್ತರಾಕೃತಿಗಳು



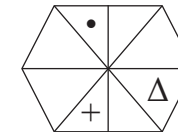
(1)



(2)



(3)



(4)

SPACE FOR ROUGH WORK

38. Select the wrong term in the given number series.

$$\frac{1}{3}, \frac{3}{6}, \frac{5}{11}, \frac{7}{17}, \frac{9}{27}, \frac{11}{38}$$

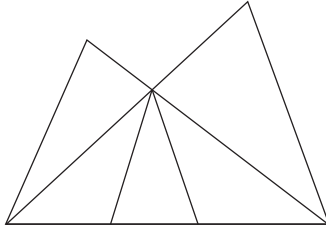
(1) $\frac{3}{6}$

(2) $\frac{11}{38}$

(3) $\frac{7}{17}$

(4) $\frac{9}{27}$

39. In the adjacent figure how many triangles are there?



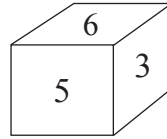
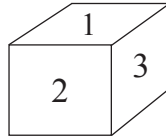
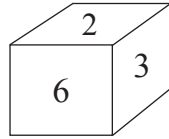
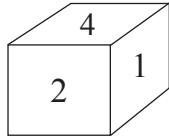
(1) 8

(2) 10

(3) 11

(4) 5

40. In the following question various faces of a cube are shown. Study them and find the number which is on the face opposite to 5.



(1) 2

(2) 6

(3) 1

(4) 4

41. If Horse is called Camel, Camel is called as Zebra, Zebra is called as Donkey, then which animal is called as 'Ship of Desert'.

(1) Horse

(2) Camel

(3) Donkey

(4) Zebra

42. Ajay is taller than Ramesh but shorter than Sadu. Sameedha is taller than Ajay but not as tall as Sadu. Who is the tallest?

(1) Sadu

(2) Sameedha

(3) Ajay

(4) Ramesh

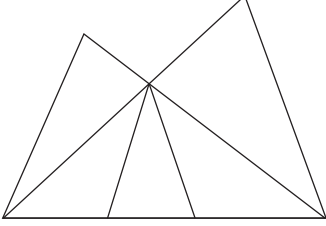
SPACE FOR ROUGH WORK

38. ಕೆಳಗಿನ ಸಂಖ್ಯಾಮಾಲಿಕೆಯಲ್ಲಿಯ ತಪ್ಪಾಗಿರುವ ಪದವನ್ನು ಗುರುತಿಸಿರಿ.

$$\frac{1}{3}, \frac{3}{6}, \frac{5}{11}, \frac{7}{17}, \frac{9}{27}, \frac{11}{38}$$

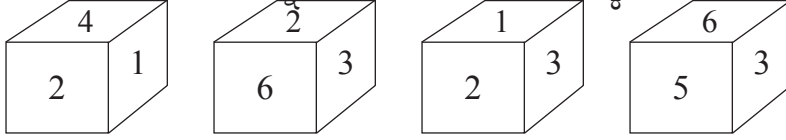
- (1) $\frac{3}{6}$ (2) $\frac{11}{38}$ (3) $\frac{7}{17}$ (4) $\frac{9}{27}$

39. ಬದಿಯ ಆಕೃತಿಯಲ್ಲಿ ಒಟ್ಟು ಎಷ್ಟು ತ್ರಿಕೋನಗಳಿವೆ?



- (1) 8
(2) 10
(3) 11
(4) 5

40. ಕೆಳಗಿನ ಪ್ರಶ್ನೆಯಲ್ಲಿ ಒಂದು ಘನದ ಪುಷ್ಪವು ಬೇರೆ-ಬೇರೆ ಸ್ಥಿತಿಯಲ್ಲಿದೆ ಎಂದು ತೋರಿಸಲಾಗಿದೆ. ಆ ಆಕೃತಿಯ ನಿರೀಕ್ಷಣೆ ಮಾಡಿ '5' ಈ ಅಂಕಿ ಇರುವ ಪುಷ್ಪದ ವಿರುದ್ಧವಾದ ಪುಷ್ಪದ ಮೇಲೆ ಯಾವ ಅಂಕಿ ಇರುವುದು ಎಂಬುದನ್ನು ಪರ್ಯಾಯದಿಂದ ಆಯ್ಕೆ ಮಾಡಿರಿ.



- (1) 2 (2) 6 (3) 1 (4) 4

41. ಕುದುರೆಗೆ ಒಂಟೆ ಎಂದು, ಒಂಟೆಗೆ ಝಿಬ್ರಾ ಎಂದು, ಝಿಬ್ರಾಗೆ ಕತ್ತೆ ಎಂದು ಕರೆದರೆ 'ಮರಳುಭೂಮಿಯ ಹಡಗು' ಎಂದು ಯಾರಿಗೆ ಕರೆಯುವರು?

- (1) ಕುದುರೆ (2) ಒಂಟೆ (3) ಕತ್ತೆ (4) ಝಿಬ್ರಾ

42. ಅಜಯನು ರಮೇಶನಿಗಿಂತ ಎತ್ತರವಿದ್ದು, ಸದುಗಿಂತ ಕುಳೆನಿದ್ದಾನೆ. ಸಮೀದಾಳು ಅಜಯನಿಗಿಂತ ಎತ್ತರವಿದ್ದು ಸದುನಷ್ಟು ಎತ್ತರವಿಲ್ಲ; ಹಾಗಾದರೆ ಎಲ್ಲಕ್ಕಿಂತಲೂ ಯಾರು ಎತ್ತರವಿದ್ದಾರೆ?

- (1) ಸದು (2) ಸಮೀದಾ (3) ಅಜಯ (4) ರಮೇಶ

SPACE FOR ROUGH WORK

43. Five years ago John and Ahmed's age was $\frac{1}{3}$ and $\frac{1}{4}$ times respectively of Sharad's age at that time. If John's age was 8 yrs at that time then what is the addition of ages of all three, two years later?

- (1) 38 yrs (2) 53 yrs (3) 59 yrs (4) 40 yrs

44. There are two married sons and three grand children in Radha's family. Find minimum number of members in Radha's family.

- (1) 12 (2) 11 (3) 10 (4) 9


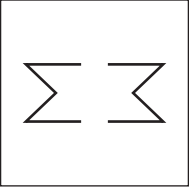
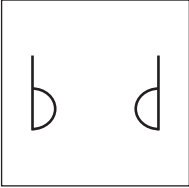
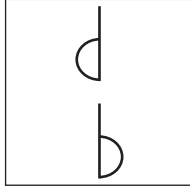
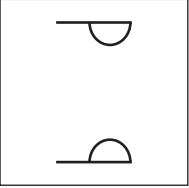
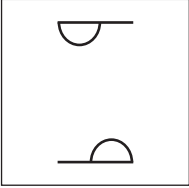
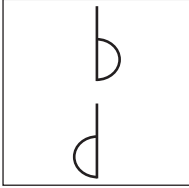
Q.45 to Q.49 Direction :

In the given questions first term has a specific relation with the second term. The same relation exists between third and fourth term. Identify the relation and select the correct option to replace the question mark.

45. Maharashtra : Governor :: India : ?

- (1) Prime Minister (2) President
 (3) Chief Minister (4) Vice-President

46.

	:		::		:	?
						
(1)	(2)	(3)	(4)			

SPACE FOR ROUGH WORK

A	B	C	D	E	F	G	H	I	J	K	L	M	N	O	P	Q	R	S	T	U	V	W	X	Y
---	---	---	---	---	---	---	---	---	---	---	---	---	---	---	---	---	---	---	---	---	---	---	---	---

43. ಜಾನ್ ಮತ್ತು ಅಹಮದನ ಐದು ವರ್ಷಗಳ ಹಿಂದಿನ ವಯಸ್ಸು ಶರದನ ಆ ಸಮಯದಲ್ಲಿಯ ವಯಸ್ಸಿನ ಅನುಕ್ರಮವಾಗಿ $\frac{1}{3}$, $\frac{1}{4}$ ಪಟ್ಟು ಇದ್ದು ಜಾನನ ಆ ಸಮಯದಲ್ಲಿಯ ವಯಸ್ಸು 8 ವರ್ಷವಿದ್ದರೆ ಎರಡು ವರ್ಷಗಳನಂತರ ಆ ಮೂವರ ವಯಸ್ಸಿನ ಬೇರೀಜು ಎಷ್ಟು?

- (1) 38 ವರ್ಷಗಳು (2) 53 ವರ್ಷಗಳು (3) 59 ವರ್ಷಗಳು (4) 40 ವರ್ಷಗಳು

44. ಸೌ. ರಾಧಾಕಾಕಿಯ ಮನೆಯಲ್ಲಿ ಇಬ್ಬರು ವಿವಾಹಿತ ಗಂಡುಮಕ್ಕಳು ಮತ್ತು ಮೂವರು ಮೊಮ್ಮಕ್ಕಳು ಇದ್ದಾರೆ, ಹಾಗಾದರೆ ಅವರ ಮನೆಯಲ್ಲಿ ಕಡಿಮೆ ಎಂದರೆ ಎಷ್ಟು ಜನರು ಇದ್ದಾರೆ?

- (1) 12 (2) 11 (3) 10 (4) 9

ಪ್ರಶ್ನೆ ಕ್ರಮಾಂಕ 45 ರಿಂದ 49 ರ ಸಲುವಾಗಿ ಸೂಚನೆ :

ಕೆಳಗಿನ ಪ್ರಶ್ನೆಗಳಲ್ಲಿ ಮೊದಲನೆಯ ಹಾಗೂ ಎರಡನೆಯ ಪದಕ್ಕೆ ಯಾವ ಸಂಬಂಧವಿದೆಯೋ ಅದೇ ಸಂಬಂಧ ಮೂರನೆಯ ಮತ್ತು ನಾಲ್ಕನೆಯ ಪದಗಳಲ್ಲಿದೆ, ಆ ಸಂಬಂಧವನ್ನು ಗುರುತಿಸಿರಿ ಹಾಗೂ ಪ್ರಶ್ನಾರ್ಥಕ ಚಿಹ್ನೆಯ ಸ್ಥಾನದಲ್ಲಿ ಬರುವ ಉತ್ತರವನ್ನು ಪರ್ಯಾಯದಿಂದ ಆರಿಸಿರಿ.

45. ಮಹಾರಾಷ್ಟ್ರ : ರಾಜ್ಯಪಾಲ :: ಭಾರತ : ?

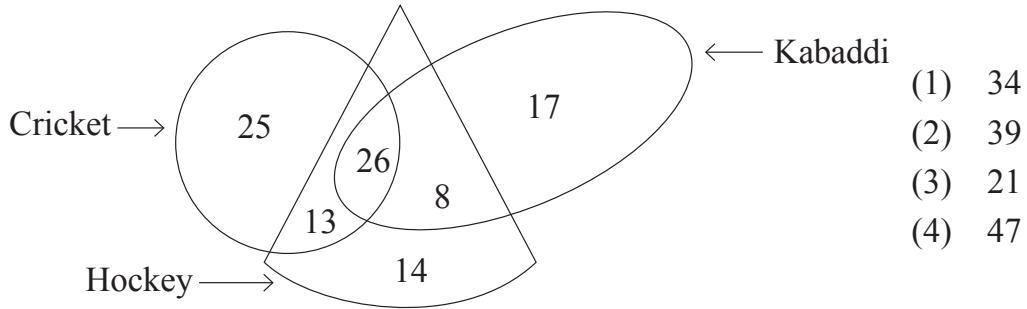
- (1) ಪ್ರಧಾನಮಂತ್ರಿ (2) ರಾಷ್ಟ್ರಪತಿ (3) ಮುಖ್ಯಮಂತ್ರಿ (4) ಉಪರಾಷ್ಟ್ರಪತಿ

46.

	:		::		:	?
(1)	(2)	(3)	(4)			

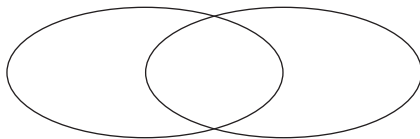
SPACE FOR ROUGH WORK

51. Rahul says, "There are 6 boys standing in front of me in a row and Amit is at the third position behind me." Amit says, "I am standing next to the boy who is exactly at the middle place in the row." How many boys are standing in the row?
 (1) 18 (2) 19 (3) 21 (4) 23
52. In a certain year if Independence day occurs on Tuesday then in the same year which day would be the last day of the year?
 (1) Sunday (2) Monday (3) Tuesday (4) Wednesday
53. The adjacent figure shows the number of players playing different games. Observe the figure and find how many players play at least two games?



- (1) 34
 (2) 39
 (3) 21
 (4) 47

54. Select the correct option to describe the given venn diagram.



- (1) Male, Female, Doctors
 (2) Numbers, Even numbers, Odd numbers
 (3) Trees, Mango, Jackfruit
 (4) Country, State, District

SPACE FOR ROUGH WORK

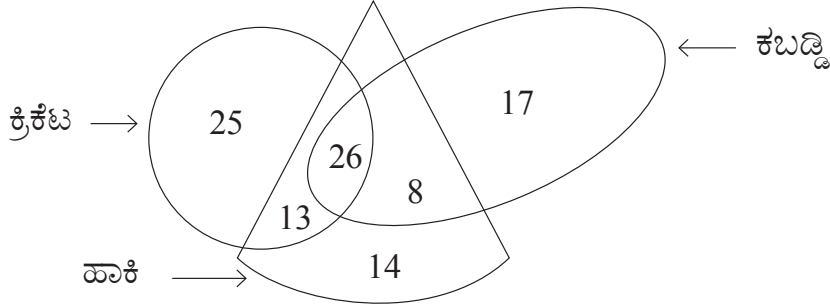
51. ರಾಹುಲ ಹೇಳುತ್ತಾನೆ, “ಒಂದು ಸಾಲಿನಲ್ಲಿ ನನ್ನ ಮುಂದೆ 6 ಹುಡುಗರು ನಿಂತಿದ್ದು, ನನ್ನ ಹಿಂದೆ ಮೂರನೆಯ ಸ್ಥಾನದಲ್ಲಿ ಅಮಿತ ನಿಂತಿದ್ದಾನೆ.” ಆದರೆ ಅಮಿತ ಹೇಳುತ್ತಾನೆ, “ನಾನು ಮಧ್ಯದಲ್ಲಿರುವ ಹುಡುಗನಿಗೆ ಹೊಂದಿಕೊಂಡು ಅವನ ಮುಂದೆ ನಿಂತಿದ್ದೇನೆ.” ಹಾಗಾದರೆ ಆ ಸಾಲಿನಲ್ಲಿ ಎಷ್ಟು ಹುಡುಗರಿರುವರು?

- (1) 18 (2) 19 (3) 21 (4) 23

52. ಒಂದು ವರ್ಷ ಸ್ವಾತಂತ್ರ್ಯದಿನವು ಮಂಗಳವಾರ ಬಂದರೆ ಆ ವರ್ಷದ ಕೊನೆಯ ದಿವಸ ಯಾವ ವಾರ ಇರುವುದು?

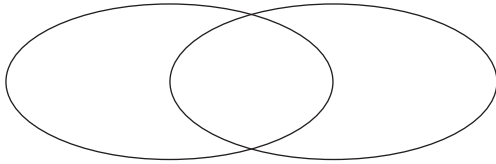
- (1) ರವಿವಾರ (2) ಸೋಮವಾರ (3) ಮಂಗಳವಾರ (4) ಬುಧವಾರ

53. ಬದಿಯ ಆಕೃತಿಯಲ್ಲಿ ಆಟಗಾರರ ಸಂಖ್ಯೆಯನ್ನು ತೋರಿಸಲಾಗಿದೆ. ಇದರ ಮೇಲಿಂದ ಕನಿಷ್ಠ ಎರಡು ಆಟಗಳಲ್ಲಿ ಆಟವಾಡುವ ಆಟಗಾರರ ಸಂಖ್ಯೆ ಎಷ್ಟು?



- (1) 34
(2) 39
(3) 21
(4) 47

54. ಕೆಳಗಿನ ವೆನ್ ಆಕೃತಿಯ ಯೋಗ್ಯವಾದ ವರ್ಣನೆ ಮಾಡುವ ಪರ್ಯಾಯ ಕ್ರಮಾಂಕ ಗುರುತಿಸಿರಿ.



- (1) ಪುರುಷ, ಸ್ತ್ರೀ, ಡಾಕ್ಟರ್
(2) ಸಂಖ್ಯೆ, ಸಮಸಂಖ್ಯೆ, ವಿಷಮಸಂಖ್ಯೆ
(3) ವೃಕ್ಷ, ಮಾವು, ಹಲಸು
(4) ದೇಶ, ರಾಜ್ಯ, ಜಿಲ್ಲೆ

SPACE FOR ROUGH WORK

55. In the given square pattern, select the correct option to replace the question mark.

11	67	17
41	?	47
23	31	5

- (1) 73
(2) 61
(3) 59
(4) 53

Q.56 to Q.60 Direction :

A set of terms is given at the beginning of the question. These terms have some common characteristic. Find out the term from the alternatives that matches the given set of terms.

56. Step mother, Snow white, Spring time, ?

- (1) Distrust (2) Foot print
(3) Black white (4) Day night

57. Hard, Challenging, Testing, ?

- (1) Easy (2) Joyful
(3) Effortless (4) Difficult

58. 25, 123, 62, 6, ?

- (1) 341 (2) 216
(3) 511 (4) 218

59. 297, 135, 501, 189, ?

- (1) 503 (2) 355
(3) 243 (4) 781

SPACE FOR ROUGH WORK

A	B	C	D	E	F	G	H	I	J	K	L	M	N	O	P	Q	R	S	T	U	V	W	X	Y
---	---	---	---	---	---	---	---	---	---	---	---	---	---	---	---	---	---	---	---	---	---	---	---	---

55. ಕೆಳಗಿನ ಚೌಕಟ್ಟಿನಲ್ಲಿ ಪ್ರಶ್ನೆ ಚಿಹ್ನೆಯ ಸ್ಥಾನದಲ್ಲಿ ಯಾವ ಸಂಖ್ಯೆ ಬರುವುದು?

11	67	17
41	?	47
23	31	5

- (1) 73
(2) 61
(3) 59
(4) 53

ಪ್ರಶ್ನೆ ಕ್ರಮಾಂಕ 56 ರಿಂದ 60 ರ ಸಲುವಾಗಿ ಸೂಚನೆ:

ಪ್ರಶ್ನೆಗಳ ಪ್ರಾರಂಭದಲ್ಲಿ ಕೆಲವು ಪದಗಳನ್ನು ಕೊಡಲಾಗಿದೆ. ಅವುಗಳ ಸಮಾನ ಗುಣಧರ್ಮಗಳನ್ನು ಸಾರ ಒಂದು ಗುಂಪು ತಯಾರಾಗುತ್ತದೆ. ಈ ಗುಂಪಿಗೆ ಸೇರುವ ಪದವನ್ನು ಕೊಟ್ಟ ಪರ್ಯಾಯಗಳಿಂದ ಆಯ್ಕೆ ಮಾಡಿರಿ.

56. ಮನೆಮಠ, ಕಸಕಡ್ಡಿ, ಹಳ್ಳಕೊಳ್ಳೆ ?

- (1) ಆಟಕಾಟ (2) ಆಟಪಾಠ
(3) ಶಾಲೆಪುಸ್ತಕ (4) ಊಟ-ತಿನಿಸು

57. ದಿನಕರ, ರವಿ, ಭಾನು ?

- (1) ಶಶಿ (2) ಚಂದಿರ
(3) ಪೃಥ್ವಿ (4) ಭಾಸ್ಕರ

58. 25, 123, 62, 6, ?

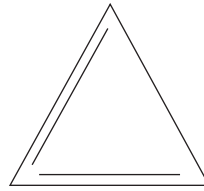
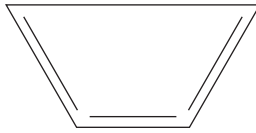
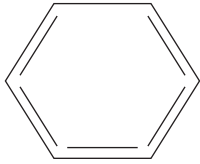
- (1) 341 (2) 216
(3) 511 (4) 218

59. 297, 135, 501, 189, ?

- (1) 503 (2) 355
(3) 243 (4) 781

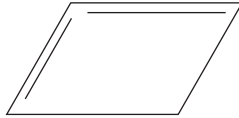
SPACE FOR ROUGH WORK

60. Question Figures:

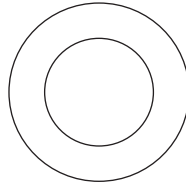


?

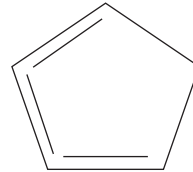
Answer Figures:



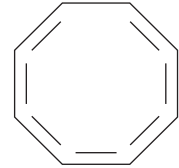
(1)



(2)



(3)




(4)

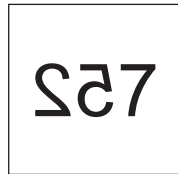
Q.61 and Q.62 Direction:

Select the mirror image of the given question figure from the options.

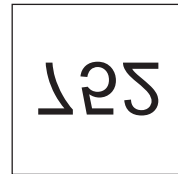
61. Question Figure:



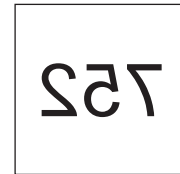
Answer Figures:



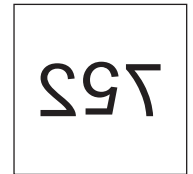
(1)



(2)



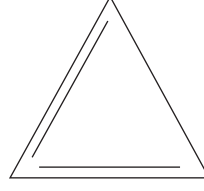
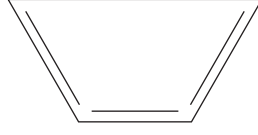
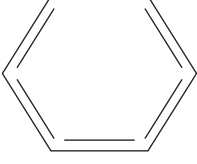
(3)



(4)

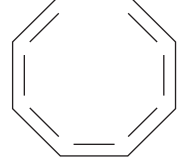
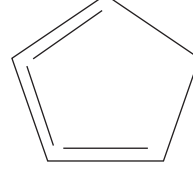
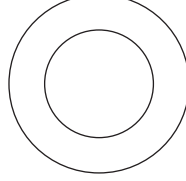
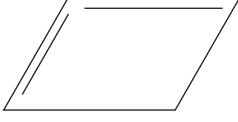
SPACE FOR ROUGH WORK

60. ಪ್ರಶ್ನಾಕೃತಿಗಳು



?

ಉತ್ತರಾಕೃತಿಗಳು



(1)

(2)

(3)

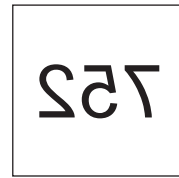
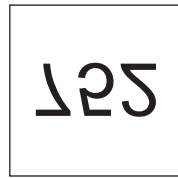
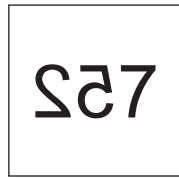

(4)

ಪ್ರಶ್ನೆ ಕ್ರಮಾಂಕ 61 ರಿಂದ 62 ರ ಸಲುವಾಗಿ ಸೂಚನೆ:

ಕೆಳಗಿನ ಪ್ರಶ್ನಾಕೃತಿಯ ಕನ್ನಡಿಯಲ್ಲಿಯ ಪ್ರತಿಬಿಂಬವು ಹೇಗೆ ಕಾಣಿಸುವುದು ಎಂಬುದನ್ನು ಪರ್ಯಾಯ ಆಕೃತಿಗಳಿಂದ ಆಯ್ಕೆ ಮಾಡಿರಿ.

61. ಪ್ರಶ್ನಾಕೃತಿ

ಉತ್ತರಾಕೃತಿಗಳು



(1)

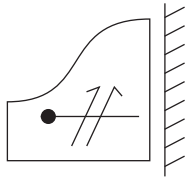
(2)

(3)

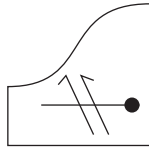
(4)

SPACE FOR ROUGH WORK

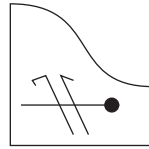
62. Question Figure:



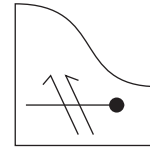
Answer Figures:



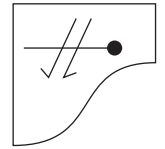
(1)



(2)



(3)

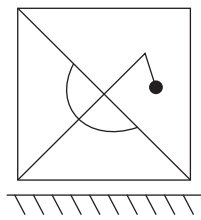


(4)

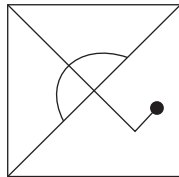
Q.63 and Q.64 Direction:

Select the water image of the given question figure from the options.

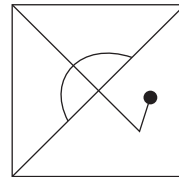
63. Question Figure:



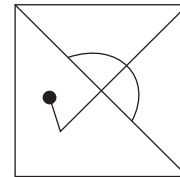
Answer Figures:



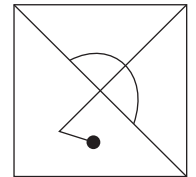
(1)



(2)



(3)




(4)

64. Question Figure:



Answer Figures:



(1)



(2)



(3)

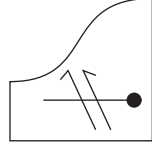
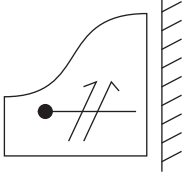


(4)

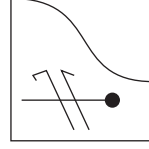
SPACE FOR ROUGH WORK

62. ಪ್ರಶ್ನಾಕೃತಿ

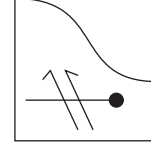
ಉತ್ತರಾಕೃತಿಗಳು



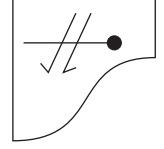
(1)



(2)



(3)



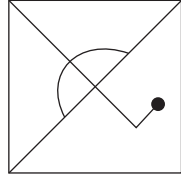
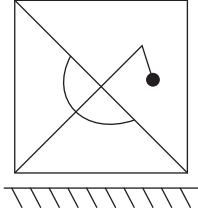
(4)

ಪ್ರಶ್ನೆ ಕ್ರಮಾಂಕ 63 ರಿಂದ 64 ರ ಸಲುವಾಗಿ ಸೂಚನೆ:

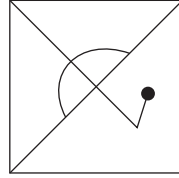
ಕೆಳಗಿನ ಪ್ರಶ್ನಾಕೃತಿಯ ನೀರಿನಲ್ಲಿಯ ಪ್ರತಿಬಿಂಬವು ಹೇಗೆ ಕಾಣಿಸುವುದು ಎಂಬುದನ್ನು ಪರ್ಯಾಯಗಳಿಂದ ಆಯ್ಕೆ ಮಾಡಿರಿ.

63. ಪ್ರಶ್ನಾಕೃತಿ

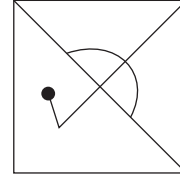
ಉತ್ತರಾಕೃತಿಗಳು



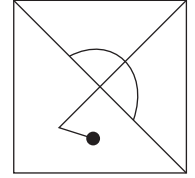
(1)



(2)




(3)



(4)

64. ಪ್ರಶ್ನಾಕೃತಿ

ಉತ್ತರಾಕೃತಿಗಳು



(1)



(2)



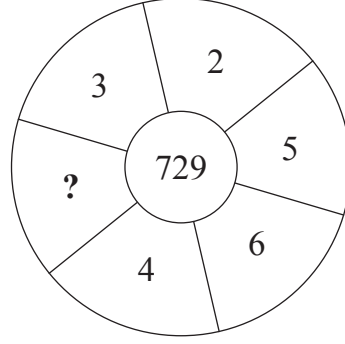
(3)



(4)

SPACE FOR ROUGH WORK

65. ಕೆಳಗಿನ ವರ್ತುಳಾಕೃತಿಯಲ್ಲಿ ಪ್ರಶ್ನೆಚಿಹ್ನೆಯ ಸ್ಥಾನದಲ್ಲಿ ಯಾವ ಸಂಖ್ಯೆ ಬರುವುದು ಎಂಬುದನ್ನು ಪರ್ಯಾಯದಿಂದ ಆಯ್ಕೆ ಮಾಡಿರಿ.



- (1) 25 (2) 6 (3) 7 (4) 17

ಪ್ರಶ್ನೆ ಕ್ರಮಾಂಕ 66 ಹಾಗೂ 67 ರ ಸಲುವಾಗಿ ಸೂಚನೆ:

ಶಬ್ದ	BUT	TAP	BAT
ಸಾಂಕೇತಿಕ ರೂಪ	△ ● □	▼ △ ☆	△ ☆ ●

ಮೇಲಿನ ಸರಣಿಯಲ್ಲಿ ಶಬ್ದಗಳಲ್ಲಿಯ ಅಕ್ಷರಗಳು ಮತ್ತು ಚಿಹ್ನೆಗಳು ಕ್ರಮವು ಒಂದೇ ಇರುತ್ತದೆ ಎಂದೆನಿಲ್ಲ ಇದನ್ನು ಲಕ್ಷ್ಯದಲ್ಲಿಟ್ಟುಕೊಂಡು ಪ್ರಶ್ನೆ ಕ್ರ. 66 ಹಾಗೂ 67ರ ಉತ್ತರವನ್ನು ಪರ್ಯಾಯದಿಂದ ಆಯ್ಕೆ ಮಾಡಿರಿ.

66. 'U' ಈ ಅಕ್ಷರಕ್ಕಾಗಿ ಯಾವ ಚಿಹ್ನೆ ಬರುವುದು?

- (1) △ (2) ●
(3) □ (4) ☆

67. ಮೇಲಿನ ಸಾಂಕೇತಿಕ ಭಾಷೆಯಲ್ಲಿ 'TOP' ಈ ಶಬ್ದ ಹೇಗೆ ಬರೆಯುವಿರಿ?

- (1) △ ● ▼ (2) ▼ ● □
(3) ☆ △ ▼ (4) △ □ ▼

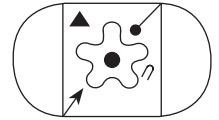
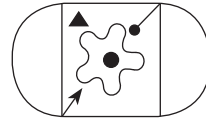
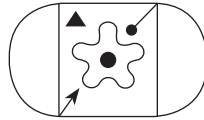
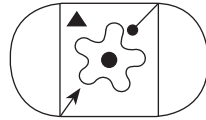
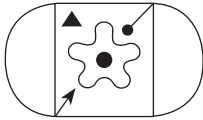
SPACE FOR ROUGH WORK

Q.68 and Q.69 Direction :

Select the identical figure to the question figure from the options.

68. Question Figure:

Answer Figures:



(1)

(2)

(3)

(4)

69. Question Figure:

Answer Figures:



(1)

(2)

(3)

(4)

70. In a certain code language. If CAT = WYE, MEN = MUL and DOG = VKS then how will you write the word which is opposite gender of 'OX'?

(1) KB

(2) WOC

(3) WKC

(4) RBK

71.

A B C D E

F G H I J

K L M N O

P Q R S T

U V W X Y

In the given alphabet series which letter is at the sixth position on the right hand of the letter which is at fourth place to the left of the letter which is ninth from the right hand side of the series?

(1) R

(2) S

(3) G

(4) T

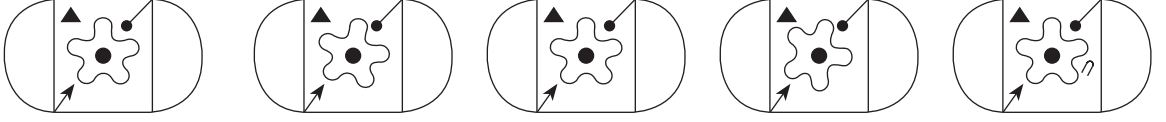
SPACE FOR ROUGH WORK

ಪ್ರಶ್ನೆ ಕ್ರಮಾಂಕ 68 ರಿಂದ 69 ರ ಸಲುವಾಗಿ ಸೂಚನೆ:

ಕೆಳಗಿನ ಪ್ರಶ್ನಾಕೃತಿಗೆ ಸರಿಯಾಗಿ ಹೊಂದುವ ಆಕೃತಿಯನ್ನು ಪರ್ಯಾಯಗಳಿಂದ ಆಯ್ಕೆ ಮಾಡಿರಿ.

68. ಪ್ರಶ್ನಾಕೃತಿ

ಉತ್ತರ ಆಕೃತಿಗಳು



(1)

(2)

(3)

(4)

69. ಪ್ರಶ್ನಾಕೃತಿ

ಉತ್ತರ ಆಕೃತಿಗಳು



(1)

(2)

(3)

(4)

70. ಒಂದು ಸಾಂಕೇತಿಕ ಭಾಷೆಯಲ್ಲಿ CAT = WYE, MEN = MUL ಮತ್ತು DOG = VKS ಎಂದು ಬರೆಯಲಾಗಿದೆ. ಹಾಗಾದರೆ ಅದೇ ಭಾಷೆಯಲ್ಲಿ 'OX' ಈ ಪದದ ವಿರುದ್ಧ ಲಿಂಗವಿರುವ ಶಬ್ದವನ್ನು ಹೇಗೆ ಬರೆಯುವಿರಿ?

(1) KB

(2) WOC

(3) WKC

(4) RBK

71.

A B C D E F G H I J K L M N O P Q R S T U V W X Y

ಮೇಲಿನ ಅಕ್ಷರಮಾಲಿಕೆಯಲ್ಲಿಯ ಬಲಬದಿಯಿಂದ ಒಂಭತ್ತನೆಯ ಅಕ್ಷರದ ಎಡಗಡೆಯಿಂದ ನಾಲ್ಕನೆಯ ಅಕ್ಷರದ ಬಲಬದಿಗೆ ಇರುವ ಆರನೆಯ ಅಕ್ಷರ ಯಾವುದು?

(1) R

(2) S

(3) G

(4) T

SPACE FOR ROUGH WORK

A	B	C	D	E	F	G	H	I	J	K	L	M	N	O	P	Q	R	S	T	U	V	W	X	Y
---	---	---	---	---	---	---	---	---	---	---	---	---	---	---	---	---	---	---	---	---	---	---	---	---

72.

Letters	C	M	D	K	L	W	N	R	P
Numbers	7	8	5	4	2	9	6	0	3

Observe the given table and solve.

$$D + W \div P - (N + L) = ?$$

- (1) R (2) P (3) L (4) N

73. Purva is facing the south-east direction and she turns to her left two times at right angle and does Shirshasan. (up side down, with head down and legs up) which direction is pointed by her right hand?

- (1) South-west (2) North-east (3) South-east (4) North-west

74. You see an injured sparrow on your way to school. What will be your immediate action?

- (1) I will loudly call my friends.
(2) I will neglect the baby sparrow.
(3) I will inform the Head-master of my school about the incident.
(4) I will serve water from my water bottle and shift the sparrow to a safe place.

75. Whose action from the following is the most correct action?

- (1) Raju collected all the garbage from the varanda and burnt it.
(2) Sameer threw the wet garbage in the dustbin.
(3) Sameedha collected all the garbage from her house in a bag.
(4) Suresh converted wet garbage into manure.

SPACE FOR ROUGH WORK

A	B	C	D	E	F	G	H	I	J	K	L	M	N	O	P	Q	R	S	T	U	V	W	X	Y
---	---	---	---	---	---	---	---	---	---	---	---	---	---	---	---	---	---	---	---	---	---	---	---	---

72.

ಅಕ್ಷರಗಳು	C	M	D	K	L	W	N	R	P
ಅಂಕಗಳು	7	8	5	4	2	9	6	0	3

ಮೇಲಿನ ಸರಣಿಯ ನಿರೀಕ್ಷಣೆ ಮಾಡಿರಿ.

$$D + W \div P - (N + L) = \text{ಎಷ್ಟು ?}$$

- (1) R (2) P (3) L (4) N

73.

ಆಗ್ನೇಯ ದಿಕ್ಕಿಗೆ ಮುಖ ಮಾಡಿ ನಿಂತಿರುವ ಪೂರ್ವಿಯು ಎರಡು ಸಲ ಎಡಗಡೆಗೆ ಕಾಟಕೋನದಲ್ಲಿ ತಿರುಗಿದಳು ಮತ್ತು ಅವಳು ಶಿರ್ಷಾಸನ ಮಾಡಿದಳು, ಹಾಗಾದರೆ ಅವಳ ಬಲಗೈ ಯಾವ ದಿಕ್ಕಿಗೆ ಇರುವುದು?

- (1) ನೈಋತ್ಯ (2) ಈಶಾನ್ಯ (3) ಆಗ್ನೇಯ (4) ವಾಯವ್ಯ

74.

ನಿಮ್ಮ ಶಾಲೆಗೆ ಹೋಗುವಾಗ ರಸ್ತೆಯ ಮೇಲೆ ಗುಬ್ಬಿಯ ಮರಿಯು ಚಡಪಡಿಸುತ್ತಿದೆ ಎಂಬುದನ್ನು ನೋಡಿದ ತಕ್ಷಣ ನೀವು ಏನು ಮಾಡುವಿರಿ?

- (1) ಅದನ್ನು ನೋಡಲು ಗೆಲೆಯರಿಗೆ ಕರೆಯುವೆನು.
(2) ಗುಬ್ಬಿಮರಿ ಕಡೆಗೆ ದುರ್ಲಕ್ಷಿಸುವೆನು.
(3) ಈ ಮೇಲಿನ ಘಟನೆಯನ್ನು ಮುಖ್ಯೋಪಾಧ್ಯಾಯರಿಗೆ ಹೇಳುವೆನು.
(4) ಸ್ವತಃ ಬಾಟಲಿಯಲ್ಲಿರುವ ನೀರನ್ನು ಗುಬ್ಬಿಮರಿಗೆ ಕುಡಿಸಿ ಅದನ್ನು ಸುರಕ್ಷಿತ ಸ್ಥಾನದಲ್ಲಿಡುವೆನು.

75.

ಕೆಳಗಿನ ಪರ್ಯಾಯಗಳಲ್ಲಿ ಯಾವ ಕೃತಿಯು ಎಲ್ಲಕ್ಕಿಂತಲೂ ಯೋಗ್ಯವಾಗಿದೆ?

- (1) ರಾಜು ಅಂಗಳದಲ್ಲಿ ಕಸವನ್ನು ಒಟ್ಟುಗೂಡಿಸಿ ಸುಟ್ಟನು.
(2) ಸಮೀರನು ಹಸಿಕಸವನ್ನು ಕಸದ ಪೆಟ್ಟಿಗೆಯಲ್ಲಿ ಹಾಕಿದನು.
(3) ಸಮೀರನು ಮನೆಯಲ್ಲಿಯ ಕಸವನ್ನು ಒಂದೇ ಪೆಟ್ಟಿಗೆಯಲ್ಲಿ ಸಂಗ್ರಹ ಮಾಡಿದಳು.
(4) ಸುರೇಶನು ಹಸಿಕಸದಿಂದ ಗೊಬ್ಬರವನ್ನು ತಯಾರಿಸಿದನು.

SPACE FOR ROUGH WORK

SPACE FOR ROUGH WORK